


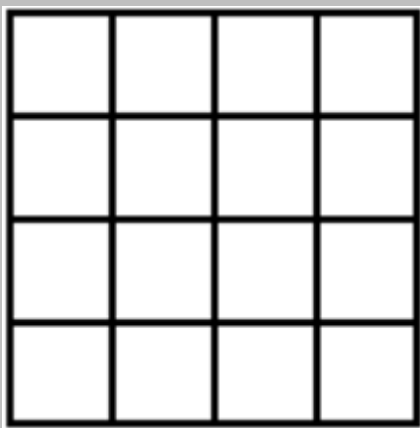
FICHE RESOLUTION DE PROBLEMES N° _____



Méthode de résolution : dénombrement


Problème de référence - Les carrés

Il y a beaucoup de carrés dans cette figure. Combien en comptes-tu ? _____



Problème 1

Il y a beaucoup de rectangles dans cette figure. Combien en comptes-tu ? _____



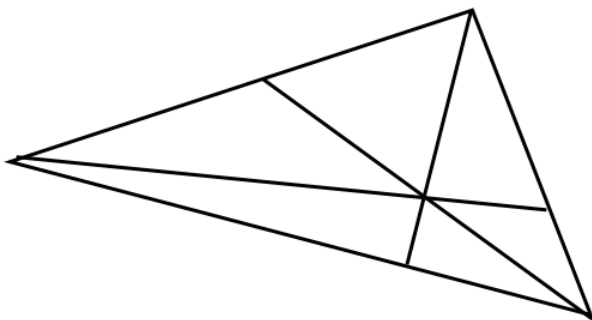
Problème 3

Il y a beaucoup de triangles dans cette figure. Combien en comptes-tu ? _____



Problème 2

Il y a beaucoup de triangles dans cette figure. Combien en comptes-tu ? _____



Problème 4

Il y a beaucoup de triangles dans cette figure. Combien en comptes-tu ? _____

