

FICHE RESOLUTION DE PROBLEMES N° _____

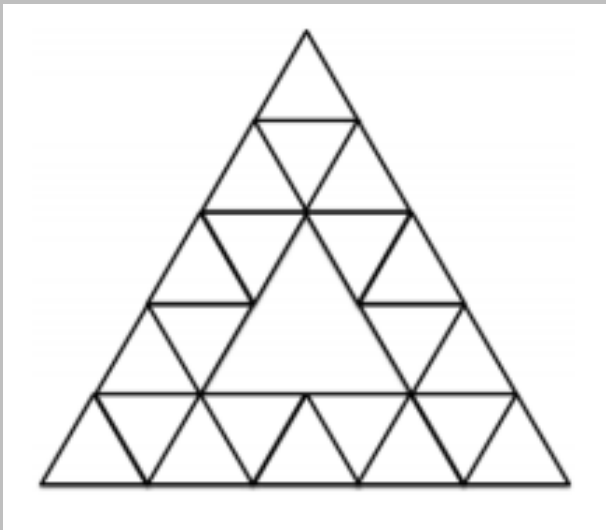


Méthode de résolution : dénombrement

Problème de référence - Les losanges de Lily

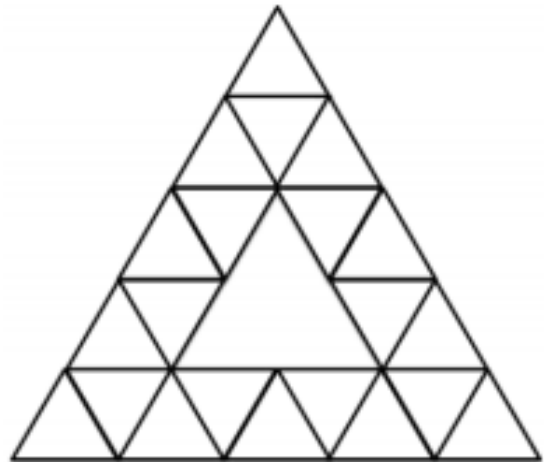


Dans la figure ci-dessous Lily compte les losanges. Combien en trouve-t-elle? _____



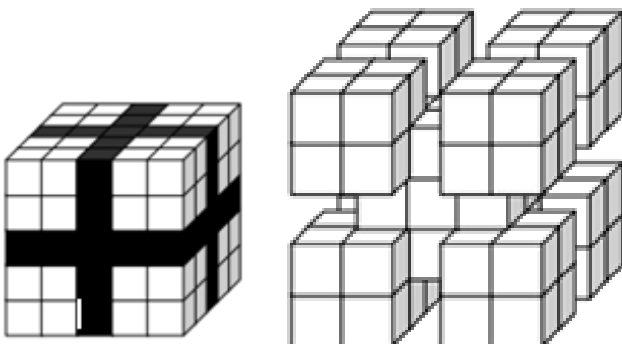
Problème 1

Dans la figure ci-dessous Emilie compte les triangles. Combien en trouve-t-elle? _____



Problème 2

Le ruban cadeau qui tenait le gros cube était adhésif. Lorsque je l'ai enlevé tous les cubes qui étaient en contact avec lui se sont enlevés. Combien reste-t-il de petits cubes? _____



Problème 3

Combien peut-on voir de carrés dans la figure ci-dessous? _____

