


1

Résous ce rébus et cite l'élément qui t'est demandé.



n'



f

2

Résous ce rébus et cite l'élément qui t'est demandé.



i



f'



z'



v

3

Résous ce rébus et cite l'élément qui t'est demandé.



n'



+



2



4

Une faute d'orthographe s'est glissée dans ce texte. Trouve-la.



Mme Dumont, la secrétaire de direction, a failli s'étouffée quand elle a aperçu la gentille petite bête qui se tortillait au milieu des crevettes. Mais elle est maligne. Elle a regardé à droite, puis à gauche et pffuit ! De la pointe du couteau, elle a expédié l'asticot le plus loin possible. Ni vu ni connu.

5

Une faute d'orthographe s'est glissée dans ce texte. Trouve-la.



Le plus drôle, je trouve, c'était le chef du département informatique. Quand il a vu l'asticot, il a eu un hoquet si violent que ses lunettes ont dégringolé dans l'assiette. Il les a repêchées et les a reprises sur son nez, puis il a fixé la pauvre bête d'un air horrifié comme si elle allait lui bondir à la figure.

6

Une faute d'orthographe s'est glissée dans ce texte. Trouve-la.



Il était une fois une veuve qui avait deux filles ; l'aînée lui ressemblait si fort et d'humeur et de visage, que, qui la voyaient, voyait la mère. Elles étaient toutes deux si désagréables et si orgueilleuses qu'on ne pouvait vivre avec elles.

7

Lis le texte et trouve ce qui ne fonctionne plus.



Depuis qu'elle ne fonctionnait plus, chacun avait repris des activités un peu oubliées depuis son apparition dans le foyer : lecture, tricot, veillées...

8

Lis le texte et trouve ce que veulent les enfants.



- Papa, s'il te plaît, achète-nous en...
- Non, vous allez encore avoir des caries !
- Allez, s'il te plaît...
- Bon, d'accord, mais une chacun seulement ! Et ne jetez pas le bâton et le papier par terre !

9

Lis le texte et trouve où est Léo.



Des bruits inquiétants provenaient de la pièce d'à côté. Léo, regrettait vraiment de n'avoir pas écouté sa maman, mais il était trop tard. . . « Tu verras, il va te l'arracher avec une énorme pince », lui avait dit sa grande sœur pour lui faire peur. . . Léo n'était vraiment pas rassuré. . .

10

Lis le texte et trouve quel est le monstre.



Le monstre assourdissant s'éloigna vers le fond du jardin. « Ouf, pensa la petite coccinelle, je suis sauvée. . . Oh non, le revoici, il va me couper en mille morceaux ! Vite, cachons-nous ! » Mais où trouver une cachette au milieu de cette pelouse ?

||

Lis le texte et trouve où est Gabrielle.



Quand elle sortit de l'ascenseur, au troisième étage, Gabrielle découvrit tout Paris. Elle s'agrippa à la balustrade de fer car, à presque 300 mètres de hauteur, elle avait un peu le vertige. . .

12

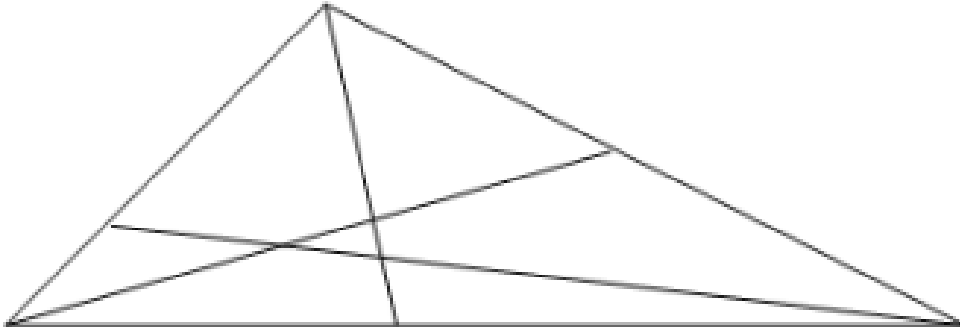
Une faute d'orthographe s'est glissée dans ce texte. Trouve-la.



Léo se cacha aussi vite qu'il put sous une feuille de salade : il venait d'apercevoir son ennemi juré se poser au milieu du potager. Léo rentra dans sa coquille en espérant que Horbebe ne le trouve pas.

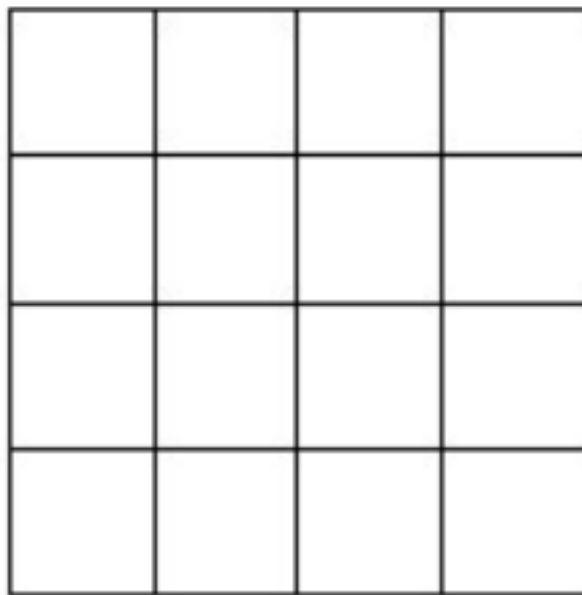
13

Combien y a-t-il de triangles dans cette figure ?



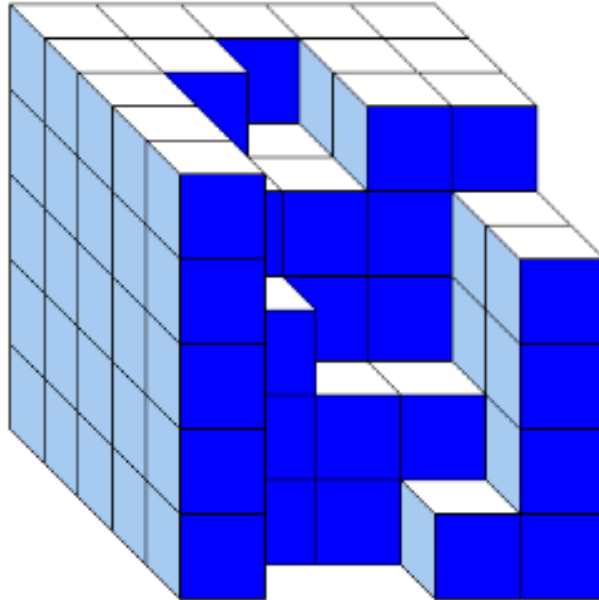
14

Combien y a-t-il de carrés dans cette figure ?



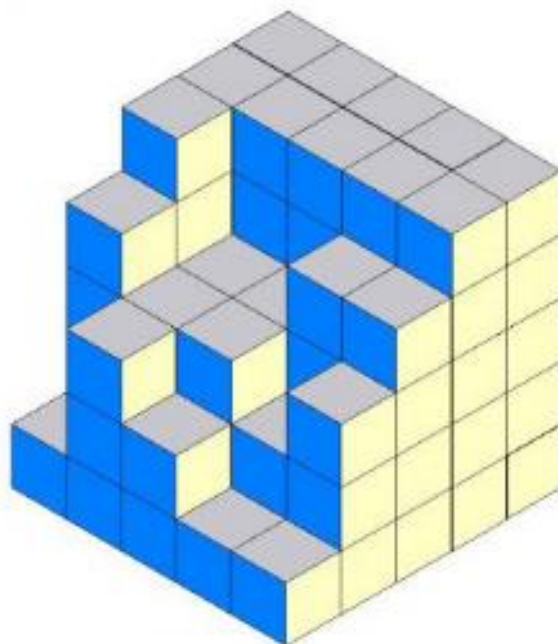
15

Combien y a-t-il de cubes manquants dans ce solide ?



16

Combien y a-t-il de cubes manquants dans ce solide ?



17

Complète la suite de nombres.



1 - 3 - 6 - 10 - 15 - 21 - ? - ?

18

Complète la suite de nombres.



20 - 16 - 36 - 52 - 88 - ? - ?

19

Complète la suite de nombres.



6 — 30 — 150 — 750 — ?

20

Le compte est bon. Obtient le nombre étiquettes en utilisant une seule fois chacun des nombres ci-dessous.



315

8 — 4 — 10 — 5

21

Le compte est bon. Obtient le nombre étiquettes en utilisant une seule fois chacun des nombres ci-dessous.



107

1 - 6 - 9 - 2

22

Le compte est bon. Obtient le nombre étiquettes en utilisant une seule fois chacun des nombres ci-dessous.




14

1 - 4 - 3 - 3


23

Dessine le domino manquant.



24

Dessine le domino manquant.



25

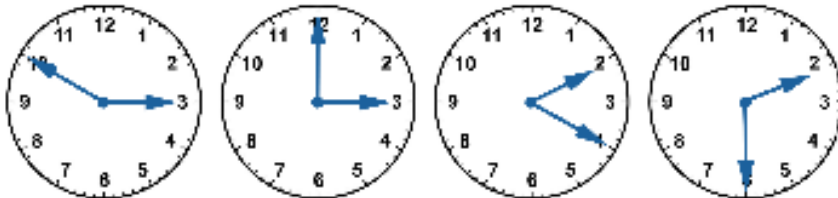
Quelle heure est-il ?



Julien est étonné de voir en même temps ces quatre horloges qui indiquent une heure différente.

On sait que parmi ces quatre horloges :

- L'une avance de 20 minutes
- Une autre retarde de 10 minutes
- Une est arrêtée.
- Une seule indique l'heure exacte.

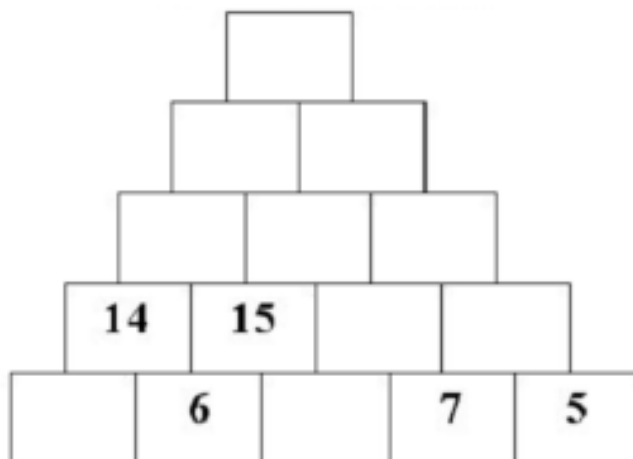


26

Trouve le nombre du sommet.



Complète la pyramide sachant qu'à partir du deuxième rang une case est la somme des deux cases placées au-dessous d'elle.



Corrections :

1 – Cite un déterminant possessif

2- Imagine une phrase négative

3- Donne le pluriel de corail

4- *étouffée*

5- *lunette*

6- *voyaient*

7- télévision

8- sucette

9- chez le dentiste

10 – une tondeuse

11- en haut de la tour Eiffel

12 – *apercevoir*

13 – 17 triangles

14- 30 carrés

15 – 27 cubes

16 – 33 cubes

17- 28 et 36

18 – 140 et 228

19 – 3750

20 – $(8 \times 4 \times 10) - 5 = 315$

21 – $(6 \times 9 \times 2) - 1 = 107$

22- $(3 \times 4) + 3 - 1 = 14$

23 – 6 en haut et 6 en bas

24 rien en haut et 6 en bas

25 – 2h30

26 - 119