

**ÉCRIS EN
CHIFFRES**



Quatre-vingt-quatre
mille quatre cents



**ÉCRIS EN
CHIFFRES**



Six cent dix mille
soixante



**ÉCRIS EN
CHIFFRES**



Trente-quatre mille six
cent quatre-vingt-dix-
neuf



**ÉCRIS EN
CHIFFRES**



Deux cent trente-trois
mille cent vingt-trois



**ÉCRIS EN
CHIFFRES**



Soixante mille sept cent
cinquante-deux



**ÉCRIS EN
CHIFFRES**



Quatre-vingt-un mille
sept cent trois



**ÉCRIS EN
CHIFFRES**



Quatre-vingt-dix-huit
mille deux cent six



**ÉCRIS EN
CHIFFRES**



Huit cent mille quarante



**ÉCRIS EN
CHIFFRES**



Deux mille neuf cent
vingt-six



**ÉCRIS EN
CHIFFRES**



Quarante-six mille trois
cents



**ÉCRIS EN
CHIFFRES**



Cent vingt mille



**ÉCRIS EN
CHIFFRES**



Cent cinquante-huit mille
neuf cent soixante et un



**ÉCRIS EN
CHIFFRES**



Cent soixante-quinze mille
quatre



**ÉCRIS EN
CHIFFRES**



Quatre cent cinquante-
huit mille quatre-vingt-
seize



**ÉCRIS EN
CHIFFRES**



Huit cent cinquante mille
deux cent douze



**ÉCRIS EN
CHIFFRES**



Trois cent cinquante-neuf
mille six cent quarante-
sept



**ÉCRIS EN
CHIFFRES**



Douze mille sept cent
quatre-vingt treize



**ÉCRIS EN
CHIFFRES**



Huit mille dix-neuf



**ÉCRIS EN
CHIFFRES**



Cinquante-cinq mille
cinq cent quarante-
cinq



**ÉCRIS EN
CHIFFRES**



Deux cent six mille sept
cent trente-six



**ÉCRIS EN
CHIFFRES**



Quatre-vingt-dix-neuf
mille neuf cent quatre-
vingt-quatorze



**ÉCRIS EN
CHIFFRES**



Soixante-dix-sept mille
six cent trente-cinq



**ÉCRIS EN
CHIFFRES**



Quarante mille trois
cent soixante et onze



**ÉCRIS EN
CHIFFRES**



Deux cent mille cinq
cent quatre-vingt onze



**ÉCRIS EN
CHIFFRES**



Soixante trois mille
quatre cent vingt-quatre



**ÉCRIS EN
CHIFFRES**



Trente-cinq mille neuf
cent vingt



**ÉCRIS EN
CHIFFRES**



Quarante-quatre mille
trois cent trente-trois



Trouve le plus grand




15 112

15 111

15 121



Trouve le plus grand



155 009

156 090

156 009



Trouve le plus grand



103 560

103 550

103 650



Trouve le plus grand



121 900

2 900

20 900



Trouve le plus grand



36 151

36 511

36 541




Trouve le plus grand



177 192

177 190

277 192




Trouve le plus grand



23 131

32 311

32 131




Trouve le plus grand



285 777

285 778

285 668



Trouve le plus grand



127 465

127 546

127 654



Trouve le plus grand



99 969

99 699

99 996



Trouve le plus grand



152 301

152 310

125 031



Trouve le plus grand



405 624

405 462

405 264



Trouve le plus grand



39 500

93 005

93 050



Trouve le plus grand



953 032

359 320

359 203



Trouve le plus grand



831 332

851 323

871 333



Trouve le
plus grand



327 634

327 364

372 436



Trouve le
plus grand



620 235

532 620

530 620



Trouve le
plus grand




107 501

107 282

107 228



Trouve le
plus grand



27 021

22 271

22 017



Trouve le
plus grand



25 895

24 896

23 548



Trouve le
plus grand



901 569

910 569

910 695



Trouve le plus grand




63 261

62 136

63 162



Trouve le plus grand



961 312

961 451

961 123



Trouve le plus grand



854 696

854 589

854 597



Trouve le plus grand



56 987

65 987

56 378



Trouve le plus grand



874 453

784 253

854 213



Trouve le plus grand




34 589

134 589

51 236



LIS LE NOMBRE



428 375




LIS LE NOMBRE



37 698



LIS LE NOMBRE



400 687




**LIS LE
NOMBRE**



62 450



**LIS LE
NOMBRE**



154 620



**LIS LE
NOMBRE**



35 081



**LIS LE
NOMBRE**



176 003



**LIS LE
NOMBRE**



125 996



**LIS LE
NOMBRE**



35 801




**LIS LE
NOMBRE**



71 654



**LIS LE
NOMBRE**



164 045



**LIS LE
NOMBRE**



705 858



**LIS LE
NOMBRE**



15 112



**LIS LE
NOMBRE**



156 009



**LIS LE
NOMBRE**



400 687



**LIS LE
NOMBRE**



610 602



**LIS LE
NOMBRE**



542 412



**LIS LE
NOMBRE**



26 301



**LIS LE
NOMBRE**



475 205



**LIS LE
NOMBRE**



36 633



**LIS LE
NOMBRE**



778 601




**LIS LE
NOMBRE**



173 080



**LIS LE
NOMBRE**



110 375




**LIS LE
NOMBRE**



94 321



**LIS LE
NOMBRE**



109 113



**LIS LE
NOMBRE**



53 230



**LIS LE
NOMBRE**



60 051



Trouve le
nombre caché



$$(3 \times 100\,000) + (5 \times 10\,000) + (9 \times 100)$$



Trouve le
nombre caché



$$300\,000 + 2\,000 + 900 + 50 + 8$$



Trouve le
nombre caché



Classe des mille : 6 c
4 u
Classe des unités : 9 c
4 d



Trouve le
nombre caché



$$(2 \times 100\,000) + (6 \times 1\,000) + (2 \times 10)$$



Trouve le
nombre caché



$$50\,000 + 9\,000 + 900 + 4$$



Trouve le
nombre caché



Classe des mille : 13u
Classe des unités : 4d



Trouve le
nombre caché



$$(5 \times 100\,000) + (7 \times 10\,000) + (6 \times 1\,000) + (3 \times 100) + (6 \times 1)$$




Trouve le
nombre caché



$$100\,000 + 20\,000 + 6\,000 + 900 + 50 + 8$$



Trouve le
nombre caché



Classe des mille : 9 c
94 u
Classe des unités : 630 u




Trouve le
nombre caché



$$(5 \times 100\,000) + (5 \times 10\,000) + (1 \times 1\,000) + (9 \times 100) + (8 \times 10) + (7 \times 1)$$



Trouve le
nombre caché



$$70\,000 + 5\,000 + 800 + 90 + 3$$



Trouve le
nombre caché



Classe des mille : 1 c
9 u
1 d
Classe des unités : 8 u



Trouve le
nombre caché



$$(8 \times 100\,000) + (3 \times 10\,000) + (1 \times 1\,000) + (4 \times 100) + (2 \times 10)$$



Trouve le
nombre caché



$$600\,000 + 30\,000 + 3\,000 + 800 + 30 + 1$$



Trouve le
nombre caché



Classe des mille : 3 c
75 u



Trouve le
nombre caché



$$(4 \times 100\,000) + (5 \times 10\,000) + (7 \times 1\,000) + (6 \times 100) + (6 \times 1)$$



Trouve le
nombre caché



$$700\,000 + 1\,000 + 500 + 30 + 3$$



Trouve le
nombre caché



Classe des unités : 3 d
7 c
9 u



Trouve le
nombre caché



$$(9 \times 100\,000) + (9 \times 10\,000) + (9 \times 1\,000) + (9 \times 100) + (9 \times 10) + (9 \times 1)$$




Trouve le
nombre caché



$$900\,000 + 8\,000 + 200 + 40$$



Trouve le
nombre caché



7 centaines de mille
7 dizaines de mille
8 mille
5 centaines



Trouve le
nombre caché



$$(1 \times 100\,000) + (6 \times 10\,000) + (9 \times 1\,000) + (7 \times 100) + (4 \times 10)$$




Trouve le
nombre caché



$$300\,000 + 70\,000 + 6\,000 + 400 + 30 + 8$$



Trouve le
nombre caché



Classe des mille : 49 u
Classe des unités : 6 c
52 u



Trouve le
nombre caché



$$(9 \times 10\,000) + (6 \times 1\,000) + (7 \times 100) + (5 \times 1)$$




Trouve le
nombre caché



$$200\,000 + 10\,000 + 900 + 1$$



Trouve le
nombre caché



8 dizaines de mille
3 centaines
1 dizaine

